

Шифр участника 4-7-19**ЗАДАНИЯ ДЛЯ ОБУЧАЮЩИХСЯ**
Время выполнения заданий – 60 минут
Максимальное количество баллов – 100 баллов

Задание 1. Выберите верный ответ из предложенных вариантов. Правильные ответы внесите в таблицу. Максимальный балл за задание – 10 баллов.

1.1. Выберите один верный ответ из предложенных вариантов.

(0,5 балла за каждый правильный ответ, максимальный балл за задание 1.1. - 5 баллов).

1. В какой город был приглашен княжить Рюрик:

- а) Киев б) Новгород в) Изборск г) Ладога

2. К какому веку относится правление Владимира Мономаха:

- а) XII б) XI в) XIII г) IX

3. Битва между монголами и русскими в 1380 г. получила название:

- а) Ледовое побоище в) стояние на Угре
 б) Мамаево побоище г) битва на Калке

4. Какое событие произошло в 1147 г.?

- а) Битва на р. Калке в) Невская битва
 б) первое упоминание о Москве г) Ледовое побоище

5. Какое событие произошло позже других:

- а) Крещение Руси в) Куликовская битва
б) Невская битва г) призвание варягов

6. Первая русская летопись называлась:

- а) «Повесть временных лет» в) «Слово о полку Игореве»
б) «Слово о погибели земли русской» г) «Задонщина»

7. Прозвище Невский князь Александр Ярославович получил за:

- а) проведение переписи населения в Новгороде в) победу над крестоносцами
б) поездку к хану Орды за ярлыком г) разгром шведского отряда

8. Центральным органом управления в Русском государстве XV в. был (и):

- а) приказы б) наместники в) волостели г) Боярская Дума

9. В каком году было введено христианство на Руси:

- а) 886г. б) 882г. в) 988г. г) 980г.

Шифр участника ч - 7 - 19

10. К какому веку относится правление Ярослава Мудрого:

- а) XII б) XI в) XIII г) IX

Ответ:

№	1	2	3	4	5	6	7	8	9	10
1.1.	2	а	δ	δ	2	а	2	2	б	δ

1.2. Верно ли утверждение? Ответ оформите в виде таблицы (0,5 балла за каждый правильный ответ, максимальный балл - 5 баллов).

✓ 1. Конунг Рюрик и его братья согласились на условия славянских вождей, и вскоре Рюрик прибыл в Ладогу и «сел» в ней «владеть», Синеус устроился на западе в Изборске, а Трувор на севере, в Белоозере.

✓ 2. Отцом хана Батгя был Чингис-хан.

✓ 3. Андрей Рублев был учеником Феофана Грека.

✓ 4. При Иване III утверждается главный символ самодержавной России – герб с двуглавым орлом.

✓ 5. Иван Калита впервые добился в Орде права собирать дань с русских земель самостоятельно, без баскаков.

✓ 6. Церковь Покрова Богородицы на Нерли был построен в память одного из сыновей Андрея Боголюбского.

✗ 7. Полюдьё - это летняя экспедиция князя по сбору дани.

✓ 8. Борис и Глеб были убиты в междоусобной борьбе старшим братом Святополком.

✓ 9. Главным событием правления Василия II стало свержение монгольского ига.

✗ 10. В середине 1340-х гг. страшная беда надвинулась на Русь – чума, «черная смерть».

Ответ:

№	ВЕРНО	НЕВЕРНО
1.2.	1, 2, 3, 4, 5, 6, 8, 9	7, 10

Задание 2. Определите и запишите принцип образования каждого логического ряда, найдите и выпишите лишний элемент в каждом ряду. Объясните, почему данный элемент является лишним. Максимальный балл за задание – 3 балла (0,5 балла за лишнее понятие и 0,5 балла за объяснение)


Шифр участника 21-7-19

- 2.1. Вятичи, поляне, кривичи, балты, радимичи
 2.2. Дажьдбог, Стрибог, Водан, Перун, Ярило
 2.3. Гончарный круг, плуг, каменный топор, ткацкий станок







Ответ:

- 2.1. Лишнее - Балты, потому что не народ восточных славян
 2.2. Лишнее - Водан, потому что все остальные боги восточных славян
 2.3. Лишнее - Ткацкий станок, потому что остальное присваивающий тип хозяйства

Задание 3. Рассмотрите изображенные на рисунках старинные профессии Древней Руси. Запишите под каждым номером название профессии и дайте её определение (объясните, чем занимался представитель данной профессии). Максимальный балл за задание – 16 баллов. За каждый правильный ответ – 1 балл.



Шифр участника 4-7-19

2 	6 
3 	7 
4 	8 

Ответ:

№	Профессия (занятие)	Определение
1	Богослав	производит богки
2		работает с деньгами
3	кожевник	работает с кожей
4	сборщик дани	собирает дань у народа
5	земледелец	работает с землей
6	книжник	следит за порядком
7	корабелник торговец	мелкий торговец
8	переводчик	переводит с одного языка на другой

Задание 4. Текст с пропусками. Заполните пробелы в тексте. Ответ оформите в виде перечня элементов под соответствующими номерами. Максимальный балл за задание – 15 баллов. За каждый правильный ответ – 1 балл.

В лето 6576 _ (1 - год от Рождества Христова). Пришли иноплеменники на Русскую землю _ (2 - название этноса/народа) многие. Князь великий киевский _ (3 - имя) же и братья его и _ (4 - имя) и младший _ (5 - имя) вышли против них на реку _ (6 - название). И с наступлением ночи они пошли друг на друга. За грехи наши напустил Бог на нас поганых, и бежали русские князья... Когда князь киевский с сыном бежали в _ (7 - город), а брат в _ (8 - город), люди, участвовавшие в походе, прибежали в город и собрали _ (9 - термин власти) на торгу, и послав к князю, сказали ему: "Вот, поганые рассыпались по всей земле, дай нам, князь, _ (10 - вид снаряжения) и коней, мы ещё побьемся с ними". Князь же этого не послушал. И люди пошли в гору и остановились около двора Брячислава и сказали: "Пойдем освободим дружину свою из _ (11 - место заключения)". И люди закричали, и освободили дружину и сына князя полоцкого _ (12 - имя). Двор же княжеский разграбили, [захватив] бесчисленное множество золота и серебра... Князь же киевский бежал в _ (13 - государство) ... В лето 6577 _ (14 - год от Рождества Христова). Пошел князь киевский со своим родственником, князем _ (15 - имя) вернуть свой стол...

Ответ:

1	1068	9	Вере
2	Рюрик	10	Орда
3	Изяслав	11	Меншиков
4	Святослав	12	Василя
5	Всеволод	13	Польше
6	Альте	14	1069
7	Киев	15	Болеслав
8	Чернигов		

Задание 5. Установите соответствие между деятелями отечественной и всемирной истории и событием, участниками или свидетелями которого они были. Максимальный балл за задание – 5 баллов. За каждый правильный ответ – 1 балл.

Российская история	Всемирная история
1. Рюрик	А. Нормандское завоевание Англии
2. Ольга	Б. Разделение христианской церкви на Восточную (православную) и Западную (католическую)
3. Ярослав Мудрый	В. Первый крестовый поход
4. Изяслав Ярославич	Г. Распад империи франков
5. Святополк	Д. Образование Священной Римской империи

Ответ:

1	2	3	4	5
Г	Б	А	В	Д

Задание 6. Внимательно рассмотрите карту и выполните предложенные задания.

Максимальный балл за задание – 12 баллов.

- 6.1. Назовите государство, территория которого обозначена на схеме цифрой «1» (2 балла).
- 6.2. Укажите название войны, события которой отображены на территории государства, обозначенного на схеме цифрой «2». Укажите годы этой войны (4 балла).
- 6.3. Назовите государство, территория которого обозначена на схеме цифрой «3» (2 балла).

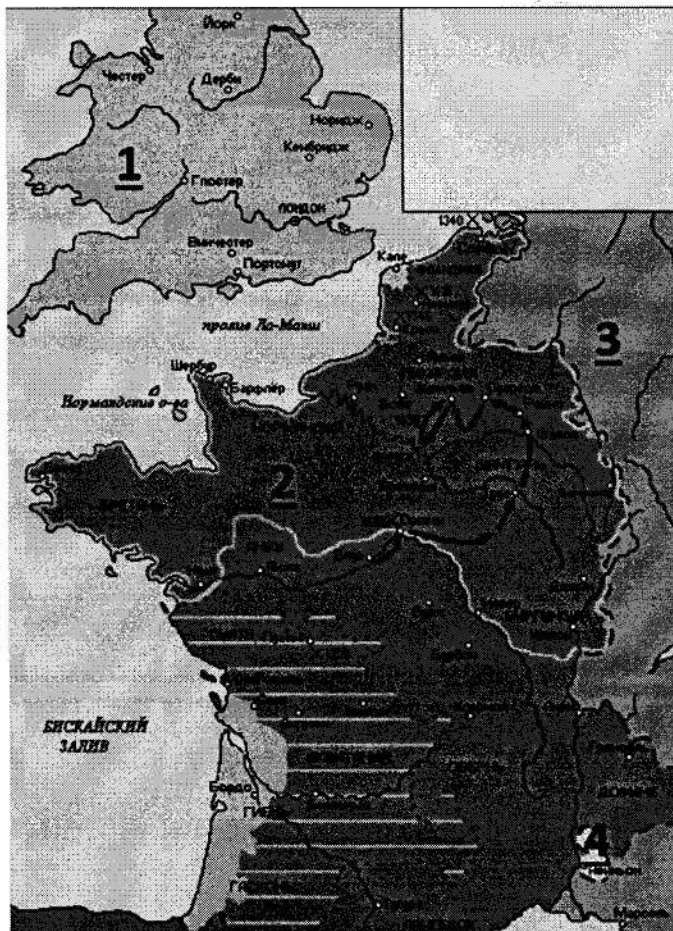
Шифр участника и - 7 - 19

6.4. Назовите национальную героиню государства, обозначенного на схеме цифрой «2», деятельность которой связана с событиями, обозначенными на карте (2 балла).

6.5. Укажите, какой известный процесс происходил в тот же период, когда происходила война, событиям которой посвящена схема, в течение 69 лет на территории области, обозначенной на схеме цифрой «4» (2 балла).

Ответ:6.1. Ниния6.2. Столетняя война - длилась с 1337 по 1453 год

6.3. _____

6.4. Маша d'Арк6.5. Кельтское племение кельты


Шифр участника И-7-19

Задание 7. Рассмотрите схемы представленные ниже принадлежащие к одной исторической эпохе и ответьте на вопросы. Максимальный балл за задание – 12 баллов.

1.

2.

3.



Задание 9. Используя все приведенные слова и словосочетания, составьте определения исторических понятий. Назовите эти понятия. Слова и словосочетания не могут использоваться дважды. Вы можете добавлять предлоги, изменять слова по падежам и пр. *Максимальный балл за задание – 3 балла. За каждый правильный ответ – 1 балл (в 9.1-9.2. определение+понятие).*

9.1. Глава, управление, Древний, выборный, в, городской, Новгород.

9.2. Высокий, хан, в, ордынский, покоренные, ранг, земли, представитель, чиновник.

9.3. Напишите имя одного из исторических деятелей европейской истории – современника Государя всея Руси Ивана III (1 балл)

Шифр участника 11-7-19

- 7.1. Определите исторические события, показанные на каждой из представленных схем 1-3 (3 балла).
- 7.2. Напишите дату каждого из них (3 балла).
- 7.3. Назовите государство, с войсками которого сражались русские воины в указанных битвах (1 балл).
- 7.4. Укажите не менее трех участников с русской стороны события, обозначенного на схеме под № 1 (3 балла)
- 7.5. Перечислите не менее двух литературных произведений, посвященных историческому событию, отраженному на схеме под № 1 (2 балла)

Ответ:

№	1 схема	2 схема	3 схема
7.1.	Куликовская битва	Битва на Реек-Поване	Битва на Реек-Розже
7.2.	1380 г.	1327 г.	1378 г.
7.3.	Золотая орда		
7.4.	Дмитрий Донской, Пересвет и Ослябя		
7.5.	"Заданья", "Сказание о Мамыевом Юсупе"		

Задание 8. Посмотрите на архитектурные сооружения и укажите: 1) название архитектурных сооружений (1 балл); 2) время их создания (с точностью до половины столетия) (1 балл); 3) имя князя, при котором они были построены (1 балл); 4) место их расположения (1 балл). Максимальный балл за задание – 16 баллов. За каждый правильный ответ – 1 балл.

Ответ:

№	Название	Время создания	Имя князя	Место
1	Золотые ворота	1164 г.	Андрей Боголюбский	Новгород Владимир
2	Дмитриевский собор	XII в.	Всеволод III	Владимир
3	Белокаменная крепость крепость	XIV в.	Дмитрий Донской	Москва
4	Софийский собор	XI в.	Ярослав Мудрый	Киев